




DENBORA-PASAK



2.

Eragin buruari. Xabat adi-adi dago matematikako klasean. **Asmatu zer eragiketa egin beharko dituen emaitza horiek lortzeko.**

$$23 \bigcirc 8 \bigcirc 9 = 40$$

$$6 \bigcirc 2 \bigcirc 7 = 21$$







$$12 \bigcirc 4 \bigcirc 2 = 32$$

1.

Asmatu, eta margotu.

Norak argazkia egin dio Xabi lagunari, hura saxofoia jotzen ari dela. **Egin eragiketak, eta margotu zati bakoitza dagokion kolorearekin.**



- | | | | | | |
|-----------------------------|---|---------|-----------------------------|--|-------------|
| $9 - 4 = \underline{\quad}$ |  | Arrosa | $8 - 2 = \underline{\quad}$ |  | Marroia |
| $4 + 3 = \underline{\quad}$ |  | Gorria | $8 - 4 = \underline{\quad}$ |  | Urdin iluna |
| $3 - 2 = \underline{\quad}$ |  | Laranja | $9 : 3 = \underline{\quad}$ |  | Urdin argia |