

IRRJEN **LAGUNAK** **KIUBA**



**MARTINBER
ETA LAGUN** • Kultura

Hazi eta irabazi D ereduan!

Urte berria estreinatu dugu, eta, pixkanaka, badoa ikasturtea aurrera. Hurrengo ikasturteari begira, baina, ikastetxea aukeratzeko garaia iritsi da! Otsailean zabalduko da 2013-2014ko ikasturterako aurrematrikula egiteko epea. Aurrematrikulazio kanpainan D eredua bultzatzeko asmoz, D ereduaren aldeko kanpaina abian jarri dute Nafarroako zenbait udalek. Irrjen Lagunak klubeko pertsonaien laguntza izan dute udalerriek horretarako. Haurrak eskolaratzeko garaian, euskaraz irakasten duten ikastetxeetan matrikulatzera animatu nahi dituzte gurasoak kanpainarekin.



Besteak beste, pailazoez eta lrujo pilotariak parte hartu dute kanpainan. AMETS BADIOLA



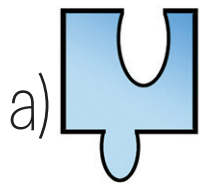

Ipuintxo bat eta bideo interaktibo bat sortu dute, D ereduaren abantailak eta onurak azaldu, eta gurasoek seme-alabentzako euskarazko eredu hautatzera anima daitezten. Porrotx, Pirritx, Tiritatxo, Mari Motots eta klubeko beste hainbat pertsonaien alboan, Nafarroako pertsonaia ezağun eta famatuek euren esperientziak kontatu eta iritziak plazaratzen dituzte. Ipuinean agertzen dira, besteak beste: Juan Martinez de Irujo pilotaria; Koldo Moreno Atarrabiako notarioa; Samira Al-Amaoui marokoa; eta Mikel Rojano, Zangotzako ikastolan D ereduan ikasi zuen eta egun AEBetan bizi den gaztea.

DENBORA-PASAK

1. Puzzlea

Olentzerok puzzle bat oparitu dio Eiharri.


Pieza bakarra falta zaio amaitzeko. Zein?



2. Buruhaustekak

Nola demontre lortu ote ditu emaitza horiek Jokinek?

Jarri beharrezko eragiketa ikurrak, emaitza horiek lortzeko.



$25 \square 3 \square 10 = 18$
$14 \square 2 \square 1 = 11$
$3 \square 7 \square 1 = 9$

Erantzunak

1.- D da falta den pieza. 2.- $25 + 3 - 10 = 18$; $14 - 2 - 1 = 11$ eta $3 + 7 - 1 = 9$.