


# denbora-pasak

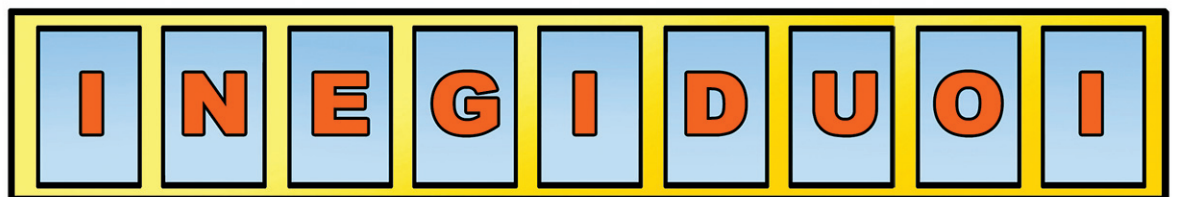
## 1. Labirintoa

Hondartzan lo hartu du Aitorrek, eta ez du ikusten non den eguzkitakoa. **Lagunduko al diozu eguzkitakoa bilatzen?**



## 2. Osatu hitzak

Txirula jotzearekin batera, hainbat hizki atera dira saskitik. **Ea zenbat hitz sortzen dituzun.**







# kasap-arobned

## 3. Buruhausteak

Nola demontre lortu ote ditu iraiak emaitza horiek?

**Pentsatu, eta jarri dagokion eragiketara ikurra.**



$$2 \square 3 \square 6 = 12$$

$$24 \square 3 \square 5 = 3$$

$$25 \square 9 \square 2 = 8$$

## Erantzunak

3.-2x3+6=12, 24÷3-5=3, 25-9-2=8, 4.-1-C, 2-D, 3-E, 4-F, 5-A, 6-B

## 4. Hitzak atzekoz aurrera

Alderantziz idatzita, oso bestelako itxura hartzen dute hitzek. **Nola idazten dira ezkerreko hitzak alderantziz?**

1	astakilo	A)	oilab
2	pasadizo	B)	arudirrah
3	burutazio	C)	olikatsa
4	lorpen	D)	ozidasap
5	balio	E)	oizaturub
6	harridura	F)	neprol