



denbora-pasak

1. Zenbakien segida.


Ehunzangoaren zenbakiek logika bat dute. **Zein zenbaki jarriko du gero?**



2. Egia ala gezurra?

Argazkiko pertsonaren inguruko hainbat argibide dituzu jarraian, baina batzuk bakarrik dira benetakoak. **Asmatu zein diren zuzenak eta zein ez. Nor da?**

EGIA GEZURRA



Juan Eusebio da bere benetako izena.	<input type="checkbox"/>
Gasteizen jaio zen.	<input type="checkbox"/>
75 urte ditu.	<input type="checkbox"/>
Zortzimilako 33 mendi igo ditu.	<input type="checkbox"/>
K-2an hanketako behatz guztiak galdu zituen.	<input type="checkbox"/>
Sekula ez du libururik argitaratu.	<input type="checkbox"/>

kasap-arobned


3. Sinonimoekin jolasean.

Poltsa batean hainbat hitz nahastu ditu. **Egin bikoteak esanahi bereko hitzekin.**



4. Buruhausteak.

Eragiketak egiten abila da Jon. Nola lortu ote ditu emaitza horiek? **Jarri beharrezko ikurrak, eragiketak osatzeko.**



$$8 \square 2 \square 6 = 12$$

$$15 \square 2 \square 6 = 7$$

$$3 \square 5 \square 8 = 23$$

Erantzunak

1.- $2 + 7$ eragiketara egiten du; 27 da, beraz, hurrengo zenbakia. 2.- 1., 2., eta 5. esaldiak zuzenak dira; besteak, ez. Juanito Oiarzabal mendizalea da. 3.- Mugikor-higikor, senitarteko-ahaide, emakume-andrazko, ausart-adoretsu eta ahots-boz. 4.- $8 - 2 + 6 = 12$; $15 - 2 - 6 = 7$; $3 \times 5 + 8 = 23$.