

# denbora-pasak

## 1. Bikiak

Sakelako telefono ugari ditu Anderrek, baina bi bakarrik dira berdin-berdinak. **Asmatuko zenuke zein bi telefono diren berdinak?**



1)



2)



3)



4)



5)



6)



7)



8)

## 2. Harri-jasotzaileak


Apustuan tematu dira beste behin ere Martin eta Pello. **Hainbeste pisu altxatu dute, ez dakite nork irabazi duen. Egin kalkuluak!**




Martin



Pello



4 aldiz



8 aldiz




5 aldiz



3 aldiz



9 aldiz



2 aldiz



6 aldiz




7 aldiz

# kasap-arobned


## 3. Zer ordu da?

Txio txoria bere lagunekin gertatu da herriko plazan, baina ordularia pilarik gabe gertatu zaio. **Non jarri behar ditu orratzak azpiko ordua adierazteko?**



## 4. Ezkutuko hitza

Oierren lehengusua oporrek pasatzera etorri da. **Ba al dakizu nola izena duen Oierren lehengusuak?**



## Erantzunak

1.-4. eta 7. telefonoak dira berdinak. 2.-Martinek 3.275 kilo altxatu ditu, eta Pellok ere 3.275 kilo altxatu ditu. Berdin du egun dute biek! 3.-Orratz txikia 7 eta 8 zenbakien artean; handia, bederatzia ren parean. 4.-Aner izena du.