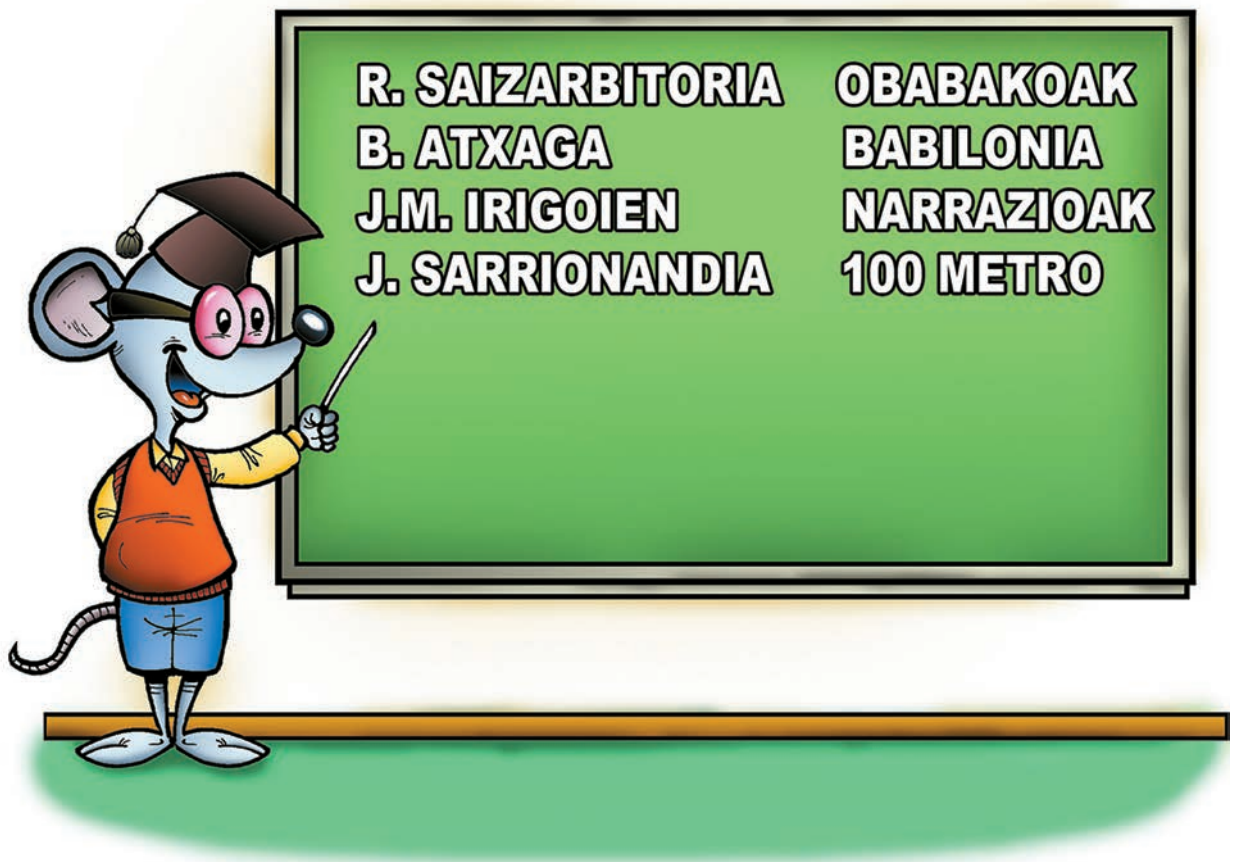


# denbora-pasak

## 1. Sagu jakintsua

Arbelaren ezker aldean, lau euskal idazle ezagun dituzu, eta ondoan, haiek idatzitako lanak.

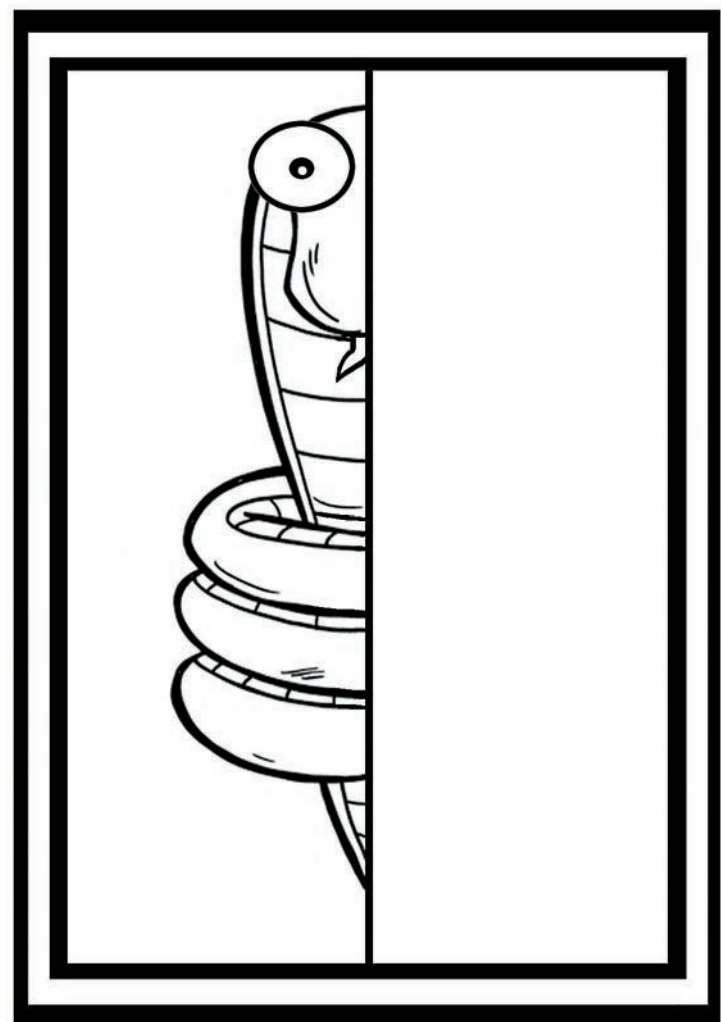
**Nork zer idatzi du?**



## 2. Amaitu eta margotu marrazkia

Animalien liburu batean ikusi zuen sugea marrazten hasi da Mikel.


**Amaitu eta margotuko duzu hark hasitako marrazkia?**



### Erantzunak

1.- Saizarbitoria-100 metro, Atxaga-Obabakoak, J.M. Irigoien-Babilonia eta Sarrionandia-Narrazioak.  
 3.- 5+6+10=21; 18:2-2=7 eta 15-2-1=12. 4.- Orratz txikia  
 11 eta 12 zenbakien artean; handia, bederatziziren parean.

# kasap-arobned



$$5 \square 6 \square 10 = 21$$

$$18 \square 2 \square 2 = 7$$

$$15 \square 2 \square 1 = 12$$


## 3. Buruhaustekak

Nola demontre lortu ote du emaitza hori Ainesek?

**Pentsatu, eta jarri behar diren eragiketa ikurrak.**

## 4. Zer ordu da?

Gauerdian da lagunekin elkartzekoa txoria. Ordularia geratu egin zaio, baina. **Non jarri behar ditu orratzak, azpiko ordua adierazteko?**



**23:45**