


denbora-pasak

1. Buruhausteak

Nola demontre lortu ote ditu Maixak emaitza horiek?


Pentsatu, eta jarri dagokion eragiketa ikurra.



$$4 \square 3 \square 4 = 8$$

$$17 \square 2 \square 1 = 14$$

$$5 \square 2 \square 12 = 22$$



2. Munduari bira

Euskal futbol taldeen entrenamendu ugartara joan da Fermin, kamera eskuan. **Nori atera die argazkia?**




kasap-arobned

3. Labirintoa

Begiak estaliak ditu Asierrek, eta ez du ikusten non den entsalada platera.

Lagunduko al diozu platera bilatzen?



4. Osatu hitzak

Txirula jotzearekin batera, hainbat hizki atera dira saskitik.



Four empty rectangular boxes for writing answers.

Ea zenbat hitz sortzen dituzun!



Erantzunak

1.-4x3-4= 8, 17-2-1= 14 eta 5x2+12= 22 dira egin beharreko eragiketak. 2.-Ilaramendi, Muriain eta Rauli Garcia.