


denbora-pasak

1. Osatu bikoteak

Baserriko animaliek ihes egin diote Leireri.


Eragiketak ondo egiten badituzu, binaka jarri ahalko dituzu.



2. Buruhausteak

Etxeko lanak amaitu ezinda dabil lker. Burmuina irakiten dauka dagoeneko. Lagunduko al diozu?

Jarri emaitza lortzeko beharrezkoak diren eragiketa ikurrak.



$$2 \square 3 \square 9 = 15$$

$$2 \square 2 \square 12 = 16$$


$$8 \square 1 \square 5 = 35$$

kasap-arobned

3. Zer ordu da?

Txitxo txoriak ez du behar bezala ulertzen ordulari analogikoa. **Non jarri behar ditu orratzak, eskuineko ordulariak beheko ordua markatzeko?**

21:45



4. Zazpi aldeak

Imanol zirkura joan da, eta elefanteari argazki bat atera dio. Zazpi aldaketa egin dizkiogu argazkiari. **Bilatu zazpi aldaketak**



Erantzunak

- 1.- Behia eta txerria; ardia eta txita; zaldia eta untxia; eta txakurra eta katua.
- 2.- $2 \times 3 + 9 = 15$, $2 + 2 + 12 = 16$ eta $8 - 1 \times 5 = 35$.
- 3.- Orratz txikia, bederatzia eta hamar zenbakien artean, eta orratz handia, bederatzia eta hamar.
- 4.- bederatzia eta hamar.

