


denbora-pasak

1. Buruhausteak

Nola demontre lortu ote du emaitza hori Mikel iraskaleak?

Jarri emaitza horiek lortzeko behar diren eragiketa ikurrak.



$$7 \square 3 \square 3 = 13$$

$$4 \square 2 \square 14 = 22$$

$$12 \square 4 \square 8 = 8$$

2. Hitzak atzekoz aurrera

Ezkerretik eskuinera irakurtzea erraza da, baina alderantziz...



Asmatu nola idazten diren ezkerreko hitzak atzekoz aurrera.

1	entrenatzaile	A)	urubil
2	ustekabe	B)	eliaztanertne
3	opari	C)	ebaketsu
4	gustagarri	D)	okzerraheb
5	liburu	E)	irapo
6	beharrezko	F)	irragatsug

kasap-arobned

3. Kopiatu laukiz lauki



Ipuineko aberatsaren marrazkia egin du Xikerrek. Hartu marrazki hori eredu gisa, eta marraztu beste bat, berdina.



4. Bikiak

Egun bakoitzeko kapela bat janzten du Graxiana sorginak.

Kapela horietatik bi berdin-berdinak dira. Zein?



Erantzunak

1.- 7+3+3=13, 4x2+8=22 eta 12+4-8=8. 2.- 1-B, 2-C, 3-E, 4-F, 5-A eta 6-D. 4.- A eta E.