


denbora-pasak

1. Buruhausteak

Eskolan hasi orduko, matematikako ariketak egiten hasi dira. **Eragiketa hauetan zein ikur jarri behar dira emaitza hori lortzeko?**



$$8 \square 3 \square 3 = 15$$

$$20 \square 5 \square 3 = 12$$

$$24 \square 4 \square 2 = 8$$

2. Apaindu marrazkia

Bi martetar marraztu ditu Ekhi eskolan: koloretan bata eta zuri-beltzean bestea.




Hartu koloretako marrazkia eredutzat, eta margotu bestea berdin.





kasap-arobned

3. Ezkutuko hitza

Ikaskide berri bat iritsi da eskolara. Zer izen duen jakiteko, mugitu hizkiak lekuz. **Zein da ikaskide berriaren izena?**



4. Zer dago sobran?



Gela txukuntzeko esan dio aitak Iñakiri, eta hainbat kutxa eman dizkio horretarako. **Kutxa honetan zerbait lekuz kanpo dago. Zer?**

Erantzunak

1.- 8-3x3=15; 20-5-3=12 eta 24:4+2=8. 3.- Beñat
4.- Begizta dago sobran.