


denbora-pasak

1. Buruhausteak

Nola demontre lortu ote du azken emaitza Peruk? **Jarri beharrezko ikurrak, eragiketak osatzeko.**



$$3 \square 3 \square 3 = 12$$

$$4 \square 2 \square 10 = 18$$

$$12 \square 7 \square 1 = 4$$

2. Egia ala gezurra?

Asmatu zein esaldi diren benetakoak eta zein okerrak. Arrasto bat: orain gutxi erretiroa hartu duela iragarri du.

Nor ote da ezkutuko laguna?





EGIA / **GEZURRA**



1968an jaio zen.	
Eskuz banakako 4 txapel irabazi ditu.	
Urrezko domina irabazi zuen Olinpiar Jokoetan.	
Eskuz banakako txapeldunik gazteena izan zen.	
Eskuz binakako txapela irabazi zuen 2010ean.	
Mikel da bere izena.	

kasap-arobned

3. Osatu eta margotu marrazkia







Anbrosio mamuaren bizilekua marraztu du Zizilik. Oharkabean erdia ezabatu du, ordea. **Osatu eta margotu marrazkia.**



4. Itzalak

Oihanari buruzko erreportaje bat ikusten aritu dira eskolan.

Begiratu itzalei, eta asmatu zein animalia ikusi dituzten.



Erantzunak

1.- $3 \times 3 + 3 = 12$; $4 \times 2 + 10 = 18$ eta $12 - 7 - 1 = 4$. 2.- Ruben Beloki da ezkutuko pertsonaia. Lehen, 5. eta 6. esaldiak ez dira zuzenak; besteak, bai.

4.- Gamela, tximinoa, errinozerontea eta krokodiloaren itzalak dira.