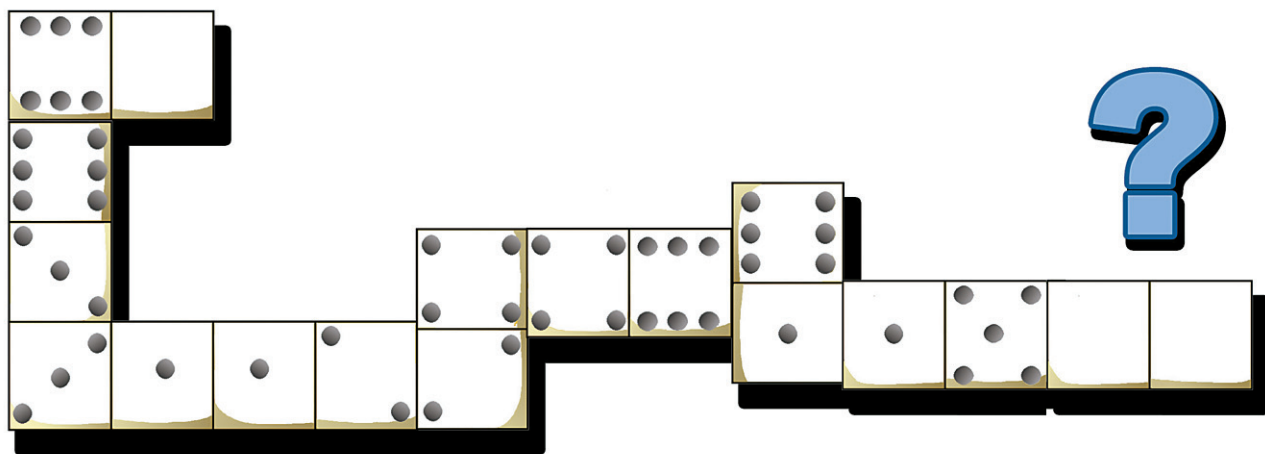


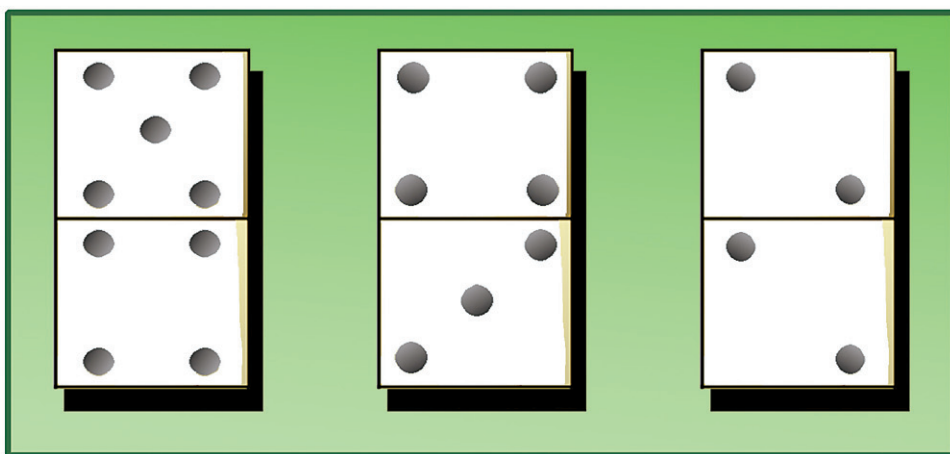
# denbora-pasak

## 1. Dominoa

Lehengusu txikiarekin domino partida jokatzen ari da Julene.




Zein da hurrengo pieza?



## 2. Puzzlea


Gazta lapurtzen zuen saguari argazkia ateratzea lortu du baserritarak.

Zein zati jarri behar da hutsune bakoitzean?



- A)
- B)
- C)
- D)
- E)
- F)
- G)
- H)

# kasap-arobned



$$2 \square 3 \square 4 = 10$$

$$5 \square 2 \square 3 = 30$$

$$10 \square 4 \square 3 = 18$$

## Erantzunak

1.-5-4 pieza. 2.-1-B, 2-A, 3-D, 4-H, 5-F, 6-C, 7-G eta 8-E.  
 3.- $2 \times 3 + 4 = 10$ ;  $5 \times 2 \times 3 = 30$  eta  $10 - 4 \times 3 = 18$  dira egün  
 beharrekotak. 4.- Santiago Bernabeu, Camp  
 Nou eta Vicente Calderon.

## 3. Buruhausteak

Ikasturtea abiatu orduko hasi dira ikasleak matematika ariketak egiten. **Zein ikur jarri behar dituzte, eragiketak osatzeko?**






## 4. Munduari bira

Futbolzale amorratua da Fermin bidaiaria. Hainbat futbol zelairi argazkia egin die. **Zein dira argazkian ageri diren zelaiak?**

