


denbora-pasak

1. Buruhausteak

Matematikako ariketa bakarra egitea geratzen zaio Enekori eskolako lanak amaitzeko. **Lagunduko al diozu ikurrak jartzen?**



$$2 \square 4 \square 3 = 11$$

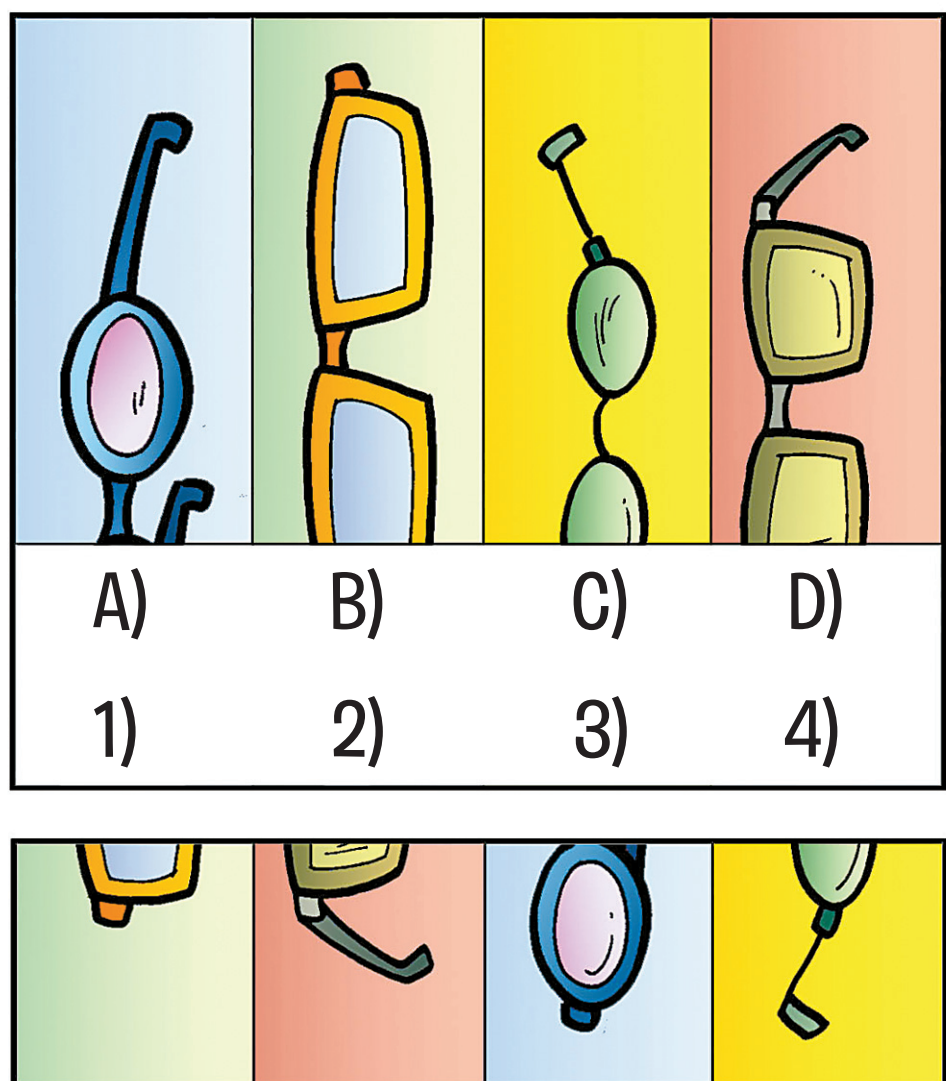
$$5 \square 2 \square 5 = 15$$

$$4 \square 1 \square 3 = 9$$

2. Osatu irudiak

Askotariko betaurrekoak saltzen ditu Bittorrek. Betaurrekoen irudiak bitan zatitu ditugu.

Lotu betaurrekoen bi zatiak.




kasap-arobned

3. Labirintoa

Eskuetan zuen xiringa non utzi duen ahaztu du erizainak.

Lagunduko al diozu xiringa dagoen lekura iristen?



4. Munduari bira

Munduan zehar bidaiatzen duenean, museoak ere bisitatzen ditu Ferminek. **Begiratu argazkiei. Zein museotan izan da?**



1.- 2x4+3=11; 5-2x3=15 edo 5x2+5; 4-1x3=9 dira eragiketak. 2.- A-3, B-2, C-4 eta D-2. 4.- Parisko Louvre, Bilboko Guggenheim eta Madrildigo Thyssen.

Erantzunak