


# denbora-pasak

## 1. Dominoa

Dominoko fitzez egina du etxerako bidea galtzagorriak.

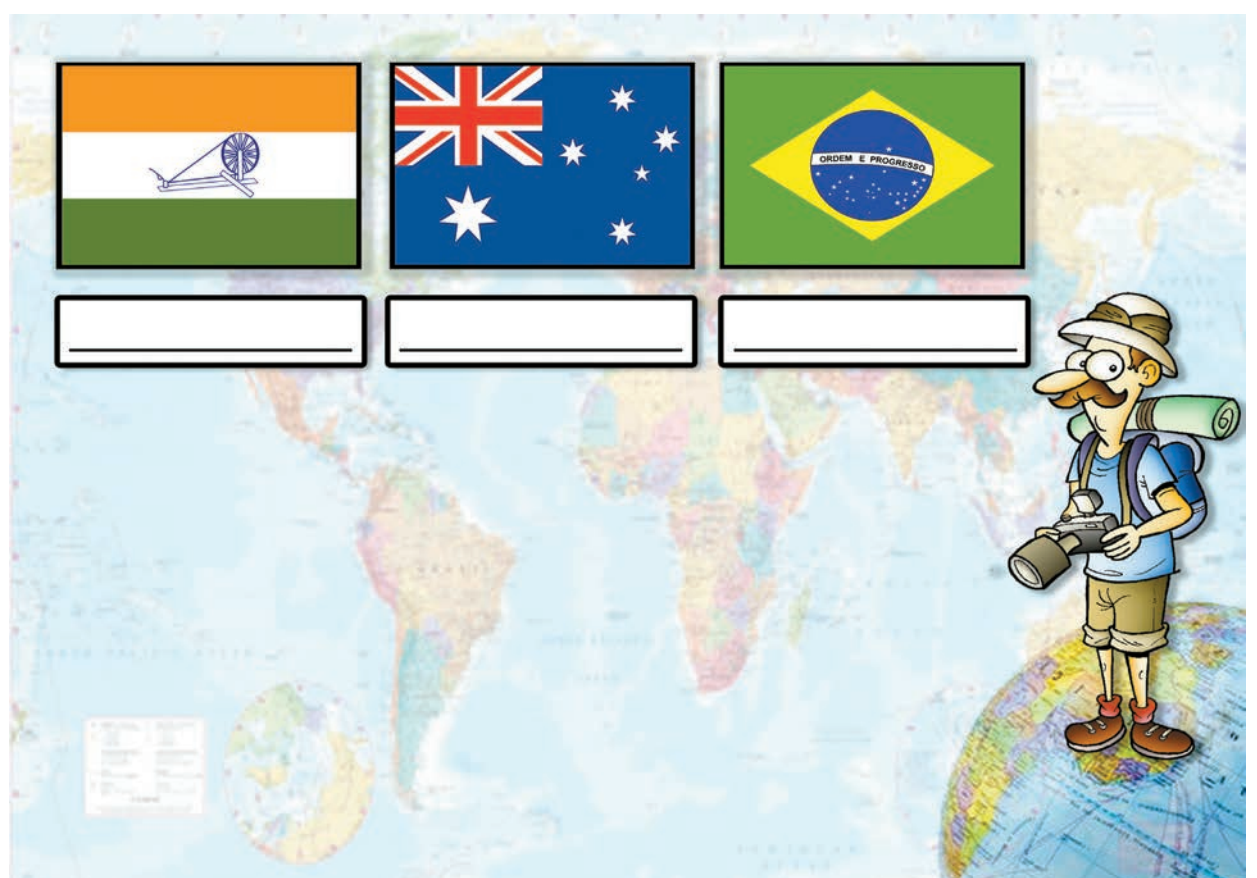
**Zein da bidea osatzeko jarri beharreko hurrengo fitxa?**



## 2. Munduari bira

Munduko herrialde ugartitan izana da Fermin. Azken bidaiari herrialdeetako banderei atera dizkie argazkiak.

**Nongo banderak dira?**




# kasap-arobned

## 3. Buruhaustekak

Matematikako ariketa guztiak eginak zituen Anderrek, baina anaia txikiak ikurrak ezabatu dizkio.

**Jarri eragiketako ikurrak.**



$$5 \square 3 \square 6 = 21$$

$$4 \square 2 \square 5 = 10$$

$$3 \square 7 \square 4 = 40$$

## 4. Sinonimoekin jolasean

Udalekuetako haurren artean gozokiak banatu behar ditu begiraleak; haur bakoitzari esanahi bereko biak.

**Nola egingo du banaketa?**



## Erantzunak

1.- Lehen fitxa. 2. India, Australia eta Brasil. 3.-  $5 \times 3 + 6 = 21$ ;  $4 - 2 \times 5 = 10$  eta  $3 + 7 \times 4 = 40$  dira egin behar diren eragiketak. 4.- Arrotz-atzerritar, lemazain-ontzi gidari, errotu-sustraitu, atsedenaaldi-geldiune eta kontatzaile-narratzailea.