



denbora-pasak

1. Zenbakien segida

Igel jauna aditua da matematikako eragiketak egiten. Begiratu jarri dituen zenbakiak.

Asmatuko al zenuke zein den hurrengoa?



2. Zazpi aldeak

Mikel gaixorik dago, eta ez da eskolara joan. Lagunei argazki hau bidali die. **Irudiari zazpi gauza aldatu dizkiogu. Bilatu!**








kasap-arobned

3. Itzalak

Guk badugu gure superheroia: Euskoman.

Begiratu itzal hauei. Zein superheroiren ikurrak dira?



4. Zer ordu da?

Begiratu azpian agertzen den ordua.

Goiko ordularian ordu bera adierazteko, non jarri behar dira orratzak?

Erantzunak

- 1.- 38 da hurrengo zenbakia.
- (x 2 + 1) da egiten duen eragiketa.
- 3.- Batman, Flash, Spiderman eta Superman. 4.- Orratz txikia lau zenbakaren ondoan, gutxi gorabehera, eta handia, hamaiakaren parean.

