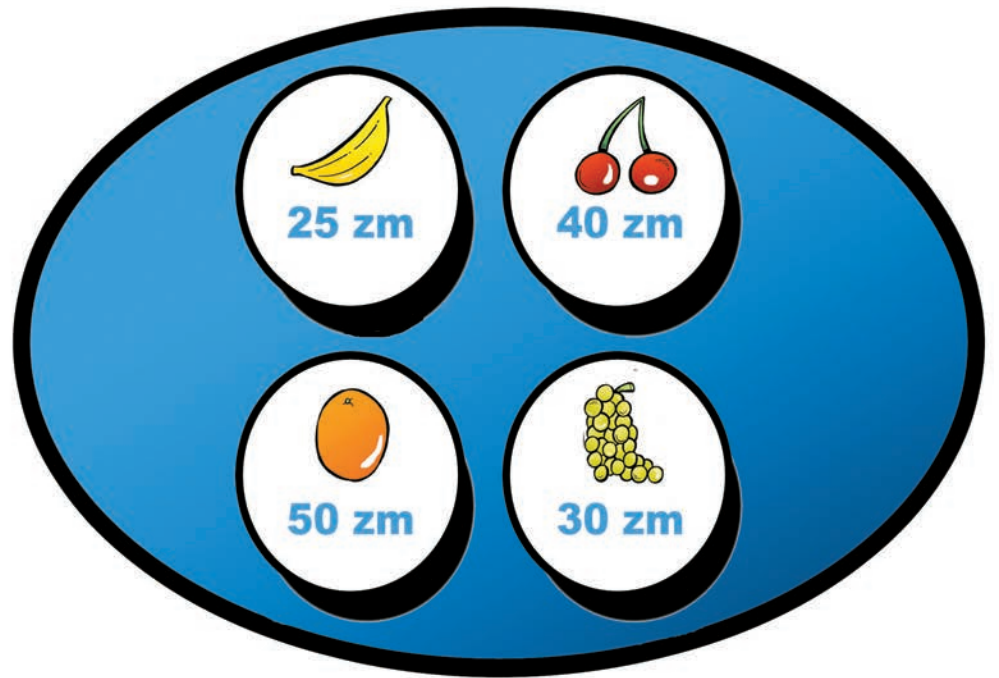


# denbora-pasak

## 1. Erosketak

Askaltzeko fruta erostera bidali du amak Xabi. Fruta bakoitzaren prezioa ikusita, **kalkulatu zenbat diru gastatu duen.**




$$\text{orange} \times 2 + \text{banana} \times 4 + \text{grapes} \times 5 =$$

$$\text{banana} \times 3 + \text{cherries} \times 1 + \text{grapes} \times 2 =$$

$$\text{orange} \times 4 + \text{banana} \times 6 + \text{cherries} \times 3 =$$





## Erantzunak

- 1.- 3,5 euro, 1,75 euro eta 4,7 euro gastatu ditu.
- 2.- Lorearen argazkia.
- 4.- Bilboko Begoñako basilika, Donostiko Artzai Onaren katedrala eta Gasteizko Santa Maria katedrala.



## 2. Zer dago sobran?

Argazki erakusketa bat ikustera joan da Peru lagunekin. Argazki hauetako bat lekuz kanpo dago. **Zein?**



.....

# kasap-arobned

## 3. Zazpi aldeak

Krixpin pailazoa artista da eskujokoak egiten. Pailazoaren argazkiari zazpi gauza aldatu dizkiogu. **Bilatu aldaketak!**






## 4. Fermin argazkilari

Eraikuntza ikusgarriak daude Euskal Herrian; Ferminek egindako argazki hauek dira frogak. **Zein elizei atera die argazkia?**

