









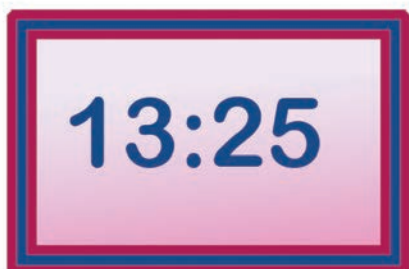
# denbora-pasak

## 1. Harri-jasotzaileak

Uda gogorra izan da Martin eta Pello harri-jasotzaileentzat, makina bat saio izan dute eta. **Egin kalkuluak, apustu hau nork irabazi zuen jakiteko.**



|  |   |   |   |
|--|---|---|---|
| <br><b>3 aldiz</b> | <br><b>7 aldiz</b>  | <br><b>4 aldiz</b>  | <br><b>8 aldiz</b> |
| <br><b>6 aldiz</b> | <br><b>5 aldiz</b> | <br><b>7 aldiz</b> | <br><b>3 aldiz</b> |



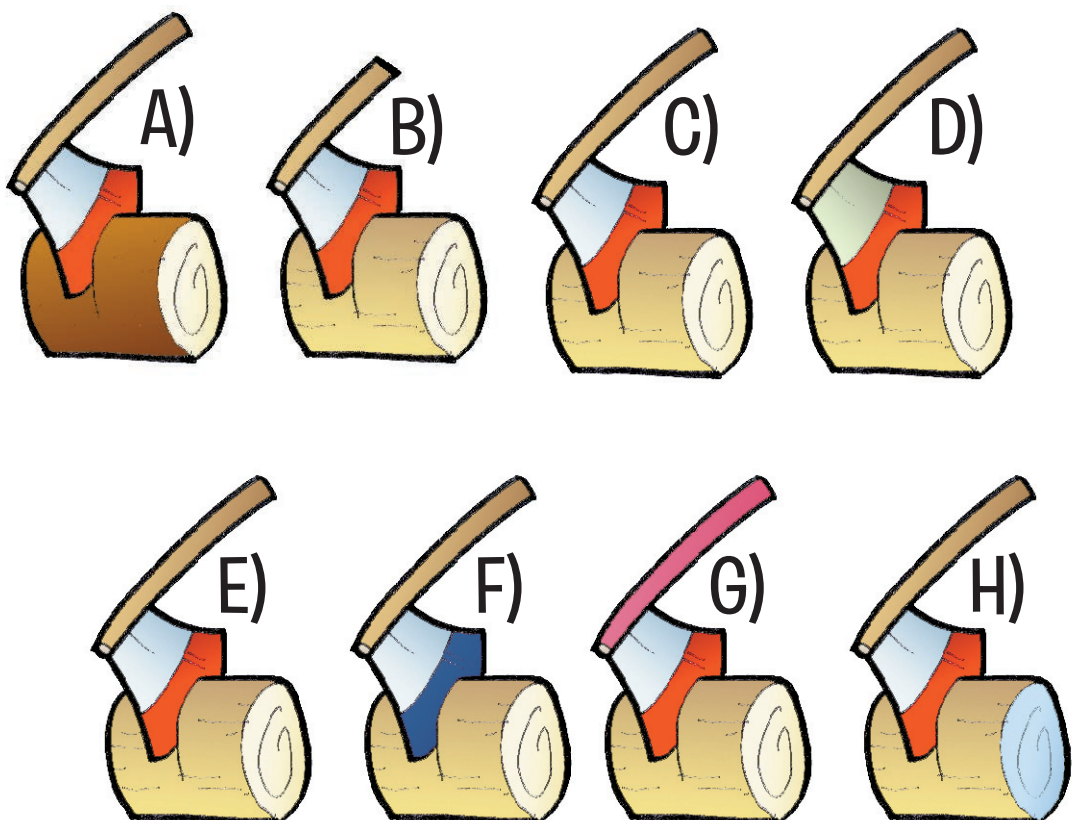
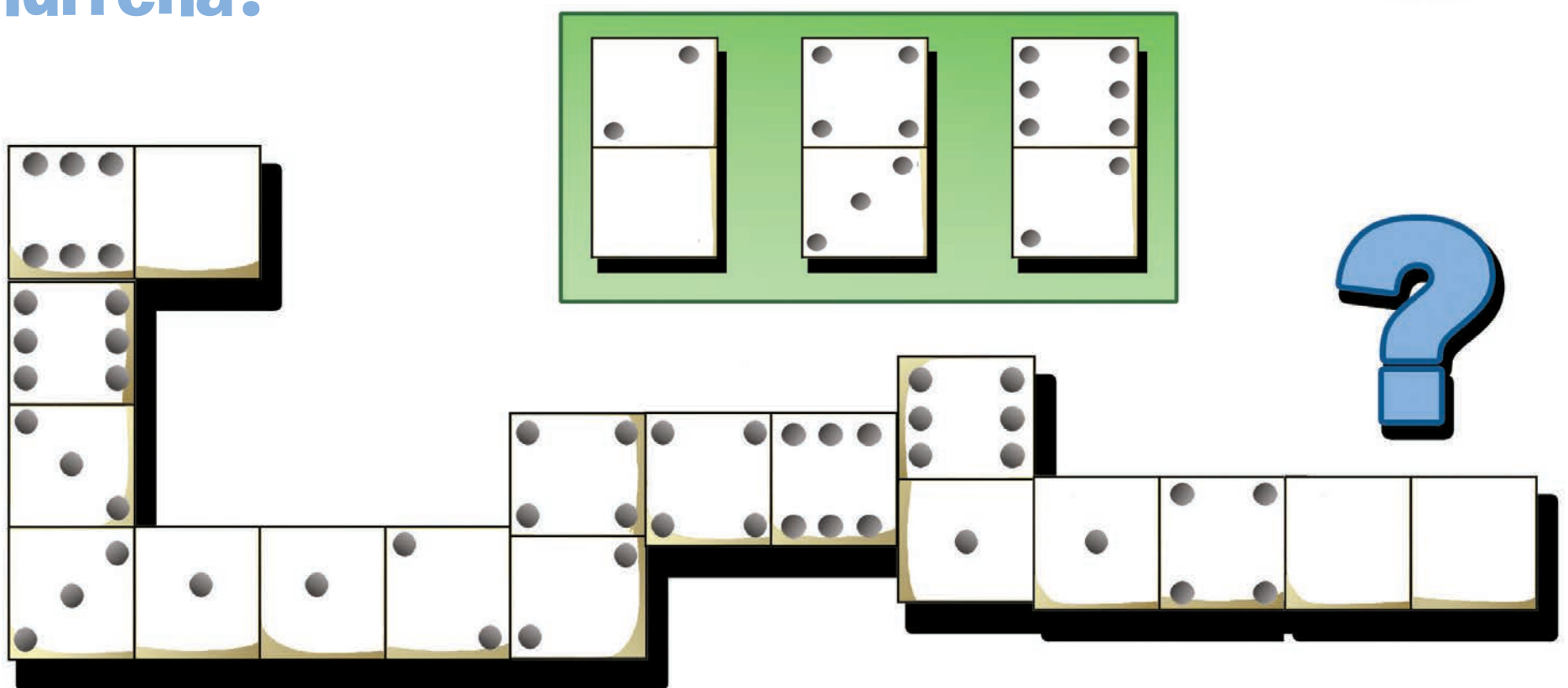
## 2. Zer ordu da?

Ordua modu digítalean ikusteko ohitura du txoriak, orratzak dituen ordulariarekin ez baita hain ongi moldatzen. **Idatzi ordu berbera hormako ordularian.**

# kasap-arobned

## 3. Dominoa

Etixerako bidea egiteko, dominoko fitxak erabili ditu ipotxak. **Zein fitxa jarri beharko du hurrena?**



## 4. Bikiak

Aizkolarien lehiarako, hainbat enbor prestatu dituzte antolatzaileek. **Bi berdin-berdinak dira. Zein?**

## Erantzunak

1.- Martinek 3.425 puntu eskuratu ditu; Pellok, 3.100.  
3.- Bigarrena. 4.- C eta E.