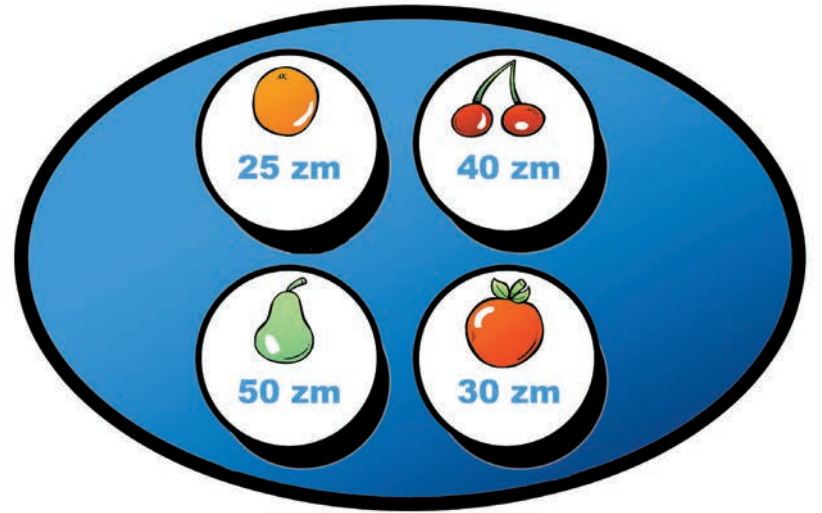



Denbora-

1 Osatu marrazkia

Txukun eta dotore marraztua zuen Ainhoak Tinko txakurra. Euriarekin, baina, erdia ezabatu egin da. Osatu eta margotu marrazkia.





$$\text{cherries} \times 2 + \text{apple} \times 4 + \text{orange} \times 5 =$$

$$\text{pear} \times 3 + \text{cherries} \times 1 + \text{apple} \times 2 =$$

$$\text{apple} \times 4 + \text{pear} \times 6 + \text{orange} \times 3 =$$


2 Erosketak

Fruta eroatera bidali du June amak. Horra hor azokan egin dituen erosketen zerrenda. Kalkulatu zenbat diru gastatu duen.



3 Zer dago sobra?

Oporretan ateratako argazkiak sailkatzen aritu da Xuban. Multzo honetako argazki bat, baina, sobra dago. Zein?



- pasak

Erantzunak: 2.- 3,25 euro, 2,5 euro eta 4,95 euro gastatu ditu. 3.- Trompeta. 4.- Fereka-laztan, sinesgabe-fedegabe, zeinu-ikur, eskutitz-gutun eta ogibide-ofizio. 5.- Argiñano-sukaldaria, Atxaga-idazlea, Jon Maia-bertsolaria eta Asier Riesgo-futbolaria.

4 Sinonimoekin jolasean

Txukun sailkatuak zituen irakasleak eskolako materialez beteriko zakuak, eta ikasle bihurriren batek guztiak nahastu dizkio. Lotu esanahi bereko bi zakuak.



5 Sagu jakintsua

Pertsonaia famatu ugari dago Euskal Herrian. Irakurri ezkerreko izenak. Ezagunak egiten al zaizkizu? Nortzuk dira?



ARGIÑANO	IDAZLEA
B. ATXAGA	BERTSOLARIA
JON MAIA	FUTBOLARIA
ASIER RIESGO	SUKALDARIA