

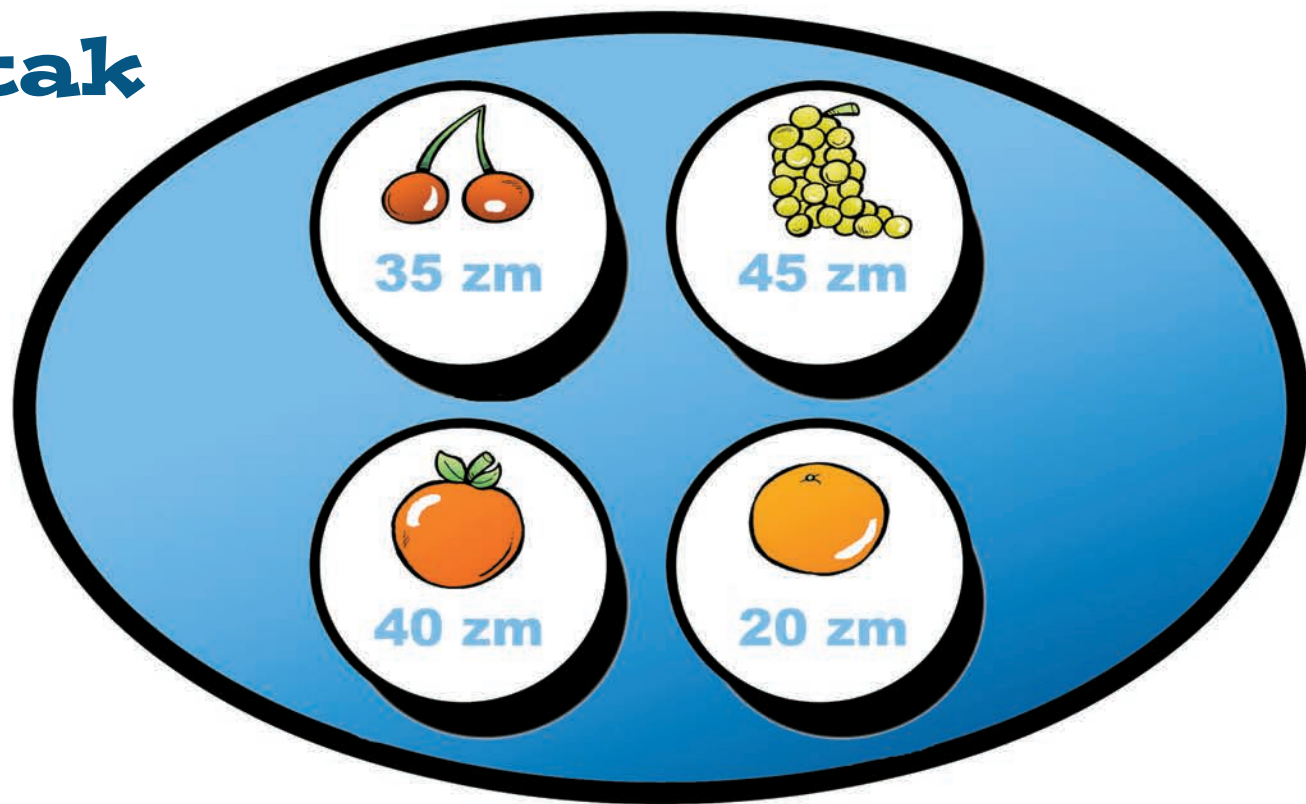
Denbora-

1 Erosketak

Poltsa bete fruta dakar

Arantzak azokatik.

Zenbat diru
gastatu duen
jakiteko, egin
kalkuluak.



$$\text{Orange} \times 4 + \text{Orange} \times 2 + \text{Cherries} \times 3 =$$

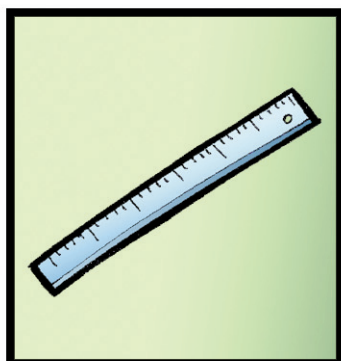

$$\text{Grapes} \times 2 + \text{Cherries} \times 3 + \text{Orange} \times 1 =$$

$$\text{Orange} \times 6 + \text{Grapes} \times 1 + \text{Orange} \times 5 =$$

2 Zer dago sobran?

Marrazketa klaseetarako materiala prestatzen ari zen Ainhoa. Materialen kutxan zerbait lekuz kanpo dagoela ohartu da. Zer?

.....
.....



-pasak

Erantzunak: 1.-3,05 euro, 2,15 euro eta 3,65 euro gastatu ditu. 2.-Gozokia.

3 Hizki salda

Eltze artean sartzea eta bazkari bereziak prestatzea du gogoko Grazianak. **Hizkien artean nahasi dituen hitzak bilatu behar dituzu.**



4 Kopiatu laukiz lauki

Oilategira joan da Andoni, eta txita berezia ikusi du. Argazkia atera dio. **Marraztu txita hutsik dauden laukietan.**

