
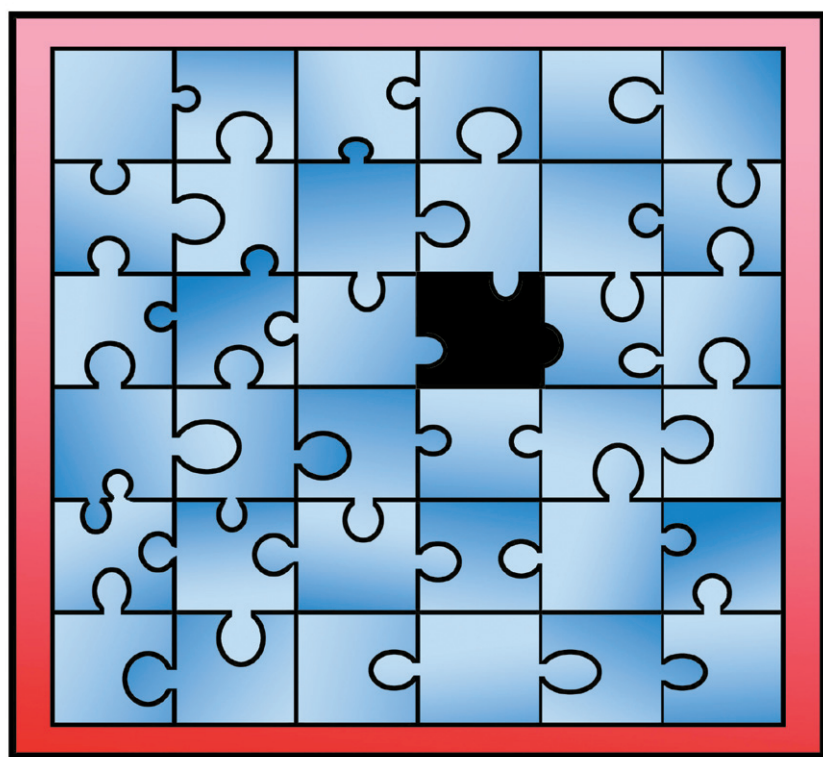


Denbora-

1 Zazpi aldeak

Eskuz esku ibili da olinpiar zuzia, Pekinera iritsi den arte. Zuziaren bi irudi dituzue hemen. Berdinak dirudite, baina, ez. Bilatu zazpi aldeak!



2 Puzzlea

Puzzle bat oparitu behar dio Unaxek aitonari, baina zati bat falta zaio jartzeko. Zein?



3 Giltzak

Kutxa irekitzen duen giltzaren kopia atera du Eurnek, badaezpada. Zein dira kutxa zabaltzen duten bi giltzak?


-pasak

















Martin

Pello




4 Harri-jasotzaileak

Herriko festetan egin dute azken apustua Martinek eta Pellok. Nork irabazi duen jakiteko, atera kalkuluak.



Martin				
	5 aldiz	4 aldiz	8 aldiz	6 aldiz
				
Pello				
	3 aldiz	6 aldiz	5 aldiz	9 aldiz
				

Erantzunak: 2.-a. 3.1a eta 5a.
4. Martinek 3.200 kilo altxa ditu, eta Pellok 3.425 kilo. 5. Pistola.



5 Zer dago sobra?

Astronomiari buruzko liburu baterako irudiak egin behar ditu marrazkilariak. Marrazki hauetako bat sobra dago. Zein?