

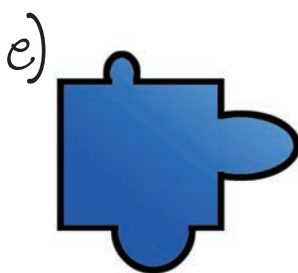

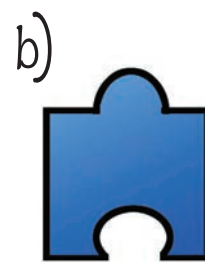



Denbora-



1 Puzzlea

Puzzle berria ekarri dio Olentzerok Mireiari. Bat izan ezik, gainerako pieza guztiak jarri ditu bere lekuan. Zein da jartzeko falta dena?



2 Ezberdintasunak

Martetarrak ikusi omen ditu Enarak zeruan. Froga gisa, bi argazki atera dizkie.

Ohartzen al zara bien artean zazpi alde daudela?

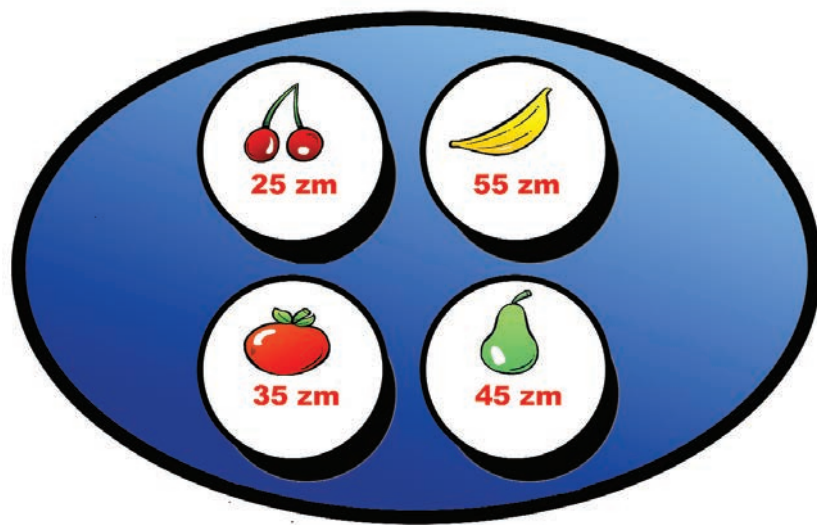


ERANTZUNAK: 1.-g. 3.-Mihluzze, Kalaka, Teknopolis eta Goenkale. 5.-4,25 euro, 4,70 euro eta 4,75 euro gastatu dituzte.

-pasak

3 Ezkutuko hitza

Hitzak hankaz gora jartzen trebea da Amaiur. Telebistako lau saioen izenak ezkututzen dira hitz nahastu hauetan. **Zein?**



$\text{pear} \times 3 + \text{banana} \times 4 + \text{tomato} \times 2 = \text{zm}$

$\text{cherries} \times 5 + \text{pear} \times 4 + \text{banana} \times 3 = \text{zm}$

$\text{banana} \times 2 + \text{tomato} \times 4 + \text{pear} \times 5 = \text{zm}$

MIHLZIUE
KKLAAA
TEKNOPIOLS
GONEKLAE

1 _____
 2 _____
 3 _____
 4 _____

3 Erosketak

Mari Motots erosketak egitera joan da amarekin. Fruta bakoitzaren balioa kontuan hartuz, kalkulatu zenbat diru gastatu duten.

4 Kopiatu koadroz koadro

Ximon unaiaren erretratua egin du Tomax margolariak. Irudia berriz marrazteko gai izango al zinateke?

