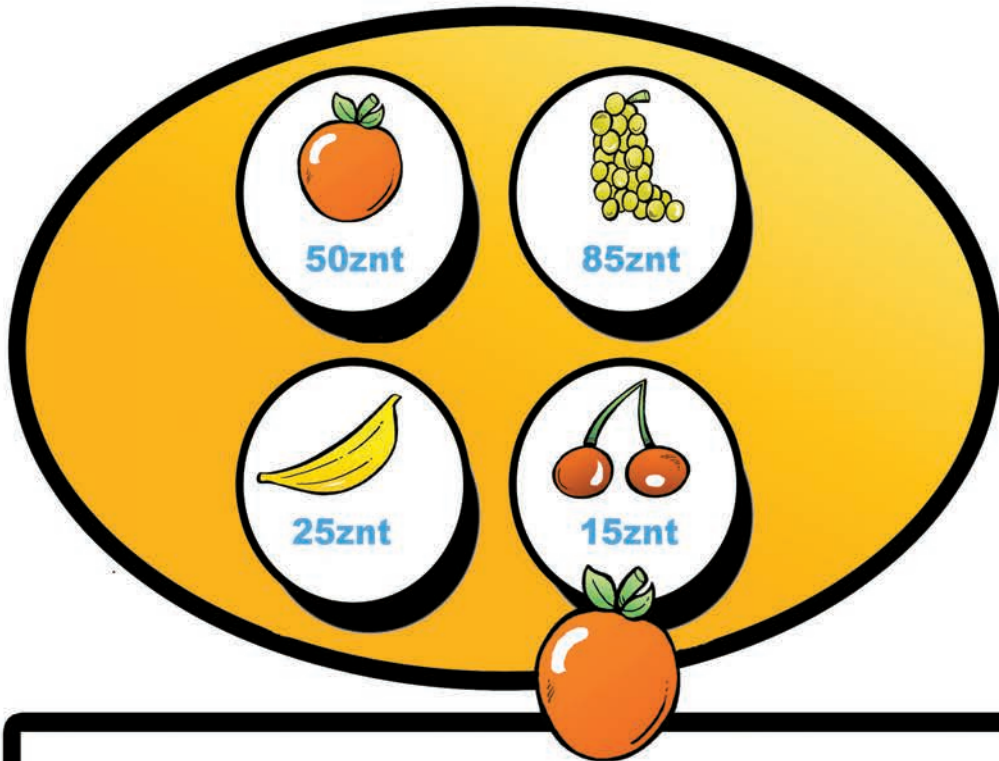


Denbora-

1 Erosketak

Aitak fruta erostera bidali du Aitziber. Azpian duzu egin duen erosketa. Ba al dakizu zenbat diru gastatu duen?



$$\text{orange} \times 4 + \text{grapes} \times 2 + \text{banana} \times 2 =$$

$$\text{grapes} \times 3 + \text{cherries} \times 6 =$$

$$\text{cherries} \times 2 + \text{grapes} \times 2 + \text{banana} \times 7 =$$

Erantzunak: 1.- 4,20 euro, 3,45 euro eta 3,75 euro.
3.- Martinek 2.300 kilo jaso ditu, eta Peiok, 2.850.
Beraz, Peio izan da irabazlea. 4.- 3 eta 4.




2 Ezberdintasunak

Jurgi eta Markel zirkua ikustera joan dira, eta pailazoarekin erabat liluratuta geratu dira. Bi argazki egin dizkiote, baina biak ezberdinak, zazpi ezberdintasun baitaude. Bilatu!

-pasak

Martin


Peio



3 Harri-jasotzaileak



Martin eta Peioren apustua oso ezagun egin da herrian. Azkenean, iritsi da egun handia. Hona hemen egin dituzten altxaldiak. **Nork jaso du kilo gehien?**

Martin				
	4 aldiz	2 aldiz	8 aldiz	6 aldiz
Peio				
	6 aldiz	3 aldiz	4 aldiz	7 aldiz



4 Giltzak

Baserriko ukuiluko sarraila zabaltzen duten bi giltza daude multzo honetan. **Zein diren asmatuko al duzu?**



5 Kopiatu laukiz lauki

Joxe alkatearen argazkia kopiatzeko gai al zara? **Hartu marrazkia eredutzat, eta marraztu hutsik dauden laukietan.**