

Denbora-

1 Sagu Jakintsua

Geografiako eskoletan adi-adi egon bazara, ariketa honetako erantzunak erraz asmatuko dituzu. Zein kontinentetan dago herrialde bakoitza?

INDIA
BRASIL
SENEGAL
SUITZA

EUROPA
ASIA
AMERIKA
AFRIKA





2 Hitz zuzenaren bila

Bost akats egin ditu Olatzek idazlanean. Marrazkian agertzen diren hitzak gaizki idatzi ditu. Ba al dakizu nola idazten diren?


3 Sarrailek

Bizikleta lotzeko giltzarrapoko bi giltza ditu Anderrek. Multzo honetako zein bi giltzak zabaltzen dute giltzarrapoa?



-pasak

4 Margotu eta asmatu



Idoia koadro bat marrazten hasi da, ahizpari oparitzeko. Zer margotu ote dio, baina? **Margotu lauki bakoitza zehaztutako kolorearekin, eta jakingo duzu.**

1. Berde argia
2. Berde iluna
3. Urdin argia
4. Urdin iluna
5. Horia

Erantzunak: 1.- India-Asia, Brasil-Amerika, Senegal-Afrika eta Suitza-Europa.
2.- Altzairu, xehatzaile, ziurtapen, urri eta abaildu. 3.- 1-3. 4.- Patsaia bat.
5.- A-1, E-F, G-B eta H-D.

5 Lotu bikoteak

Balio bereko arrainak binaka jarriak zituen Saioak, baina uretara salto egin eta berriro nahastu dira. **Eragiketak egin, eta jarri arrainak binaka.**

